

1. razred OŠ






IME IN PRIIMEK _____

RAZRED _____ MENTOR _____


1	2	3	4	5	6	7

ZA REŠEVANJE IMAŠ NA VOLJO 45 MINUT. ODGOVORE ZAPIŠI V GORNJO PREGLEDNICO. ZA VSAK PRAVILEN ODGOVOR DOBIŠ 4 TOČKE. ZA VSAK NEPRAVILEN ODGOVOR TI ODŠTEJEMO 1 TOČKO. ČE PA PUSTIŠ POLJE V PREGLEDNICI PRAZNO, DOBIŠ 0 TOČK.

1. NA STEBLU KATERE CVETLICE JE NAJVEČ LISTOV?



2. TOMAŽ JE Z BELIMI IN SIVIMI ENAKO VELIKIMI KVADRATNIMI PLOŠČICAMI SESTAVIL FIGURO (GLEJ SLIKO).








KOLIKO VEČ SIVIH PLOŠČIC JE PORABIL KOT BELIH?

- (A) 6 (B) 7 (C) 8 (D) 9 (E) 10

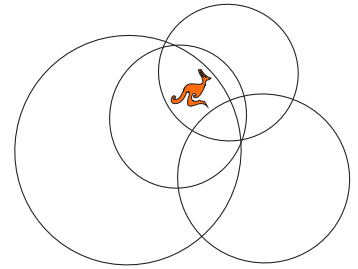
3. NA KATERI SLIKI JE OSENČEN OBRIS DEKLETA NA KOLESU Z DESNE SLIKE?




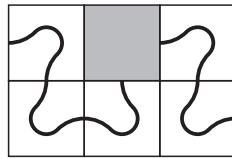
- (A) 
- (B) 
- (C) 
- (D) 
- (E) 

4. ZNOTRAJ KOLIKO KROGOV JE KENGURU?






- (A) 1
(B) 2
(C) 3
(D) 4
(E) 5



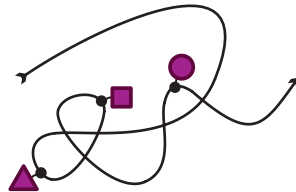
5. NAJA IMA 6 ENAKIH PLOŠČIC, NA KATERIH JE NARISANA KRIVA ČRTA . PLOŠČICE BO POLOŽILA NA 6 POLJ TAKO, DA BO NASTALA 1 SAMA DOLGA KRIVA ČRTA. NAJA JE 5 PLOŠČIC ŽE POLOŽILA (GLEJ SLIKO).








KAKO MORA BITI OBRNJENA PLOŠČICA, KI JO BO NAJA POLOŽILA NA OSENČENO POLJE?

- (A)  (B)  (C)  (D)  (E) 

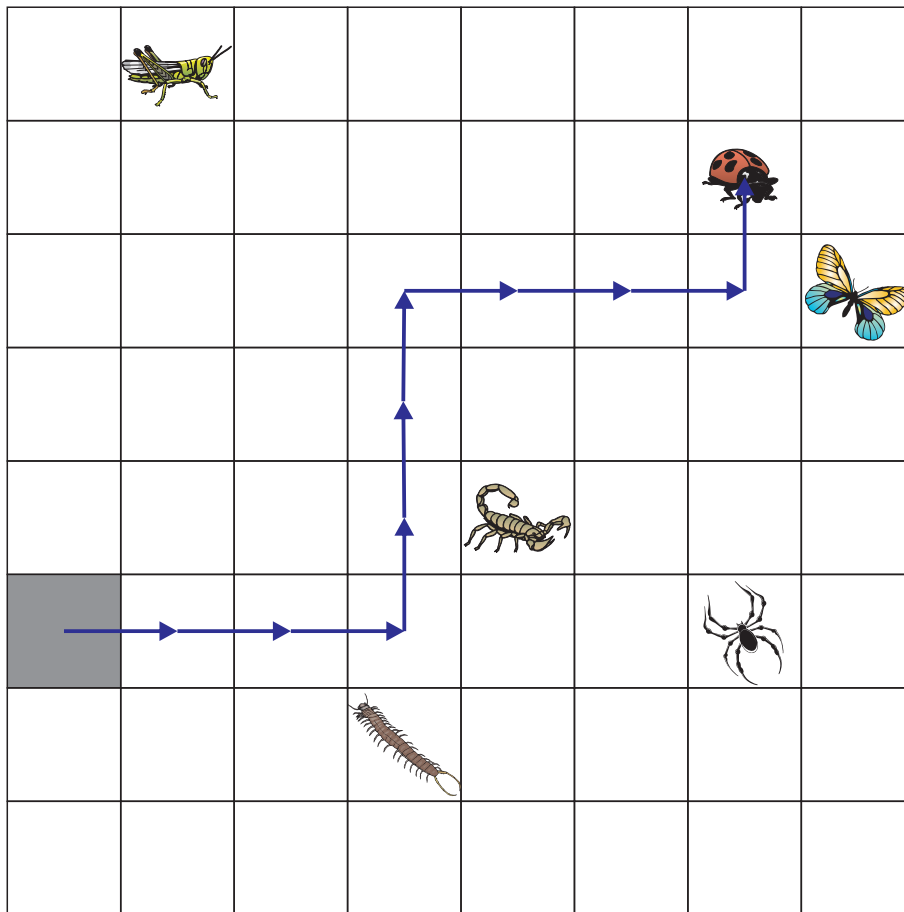
6. MACA JE NA VRVICO NANIZALA 3 OBESKE IN VRVICO Z OBESKI POLOŽILA NA MIZO (GLEJ SLIKO).



NATO JE VRVICO ZRAVNALA. NA KATERI SLIKI JE MACINA VRVICA Z OBESKI?

- (A)  (B)  (C)  (D)  (E) 

7. MRAVLJA JE TAKOLE OPISALA, KAKO JE S SIVEGA POLJA PRIŠLA DO PIKAPOLONICE: $\rightarrow 3, \uparrow 3, \rightarrow 3, \uparrow 1$ (GLEJ SLIKO).



DO KATERE ŽIVALI BI PRIŠLA MRAVLJA, ČE BI SVOJO POT S SIVEGA POLJA OPISALA NA NASLEDNJI NAČIN: $\rightarrow 2, \downarrow 2, \rightarrow 3, \uparrow 3, \rightarrow 2, \uparrow 2$?

- (A)  (B)  (C)  (D)  (E) 